

OLIMPIADA DE MATEMATICĂ
ETAPA LOCALĂ 13-02-2005
CLASA a - VII – a

I a) Să se arate că $\sqrt{5n+7} \notin \mathbb{Q}$ oricare ar fi n număr natural.

b) Se dă $x = \frac{1 - \sqrt{2} + \sqrt{3} - \sqrt{6} - \sqrt{5} + \sqrt{10}}{1 + \sqrt{3} - \sqrt{5}}$.

Să se calculeze $(x + \sqrt{2})^{2005}$

Prof. Dumitru Aurel

II Să se arate că:

a) $\frac{1}{k^2} > \frac{1}{k(k+1)}, k \in \mathbb{N}^*$

b) $1 + \frac{1}{2^2} + \frac{1}{3^2} + \frac{1}{4^2} + \dots + \frac{1}{2005^2} > 1 \frac{501}{1003}$

Prof. Dumitru Aurel

III Fie ABCD un patrulater convex, punctele M, N sunt mijloacele laturilor BC, respectiv

CD. Dreptele AM și BN se intersectează în P. Știind că $\frac{MP}{MA} = \frac{1}{5}$ și $\frac{PB}{BN} = \frac{2}{5}$

arătați că ABCD este paralelogram.

Prof. Cimpoieșu Neculai

IV În triunghiul ABC, M este mijlocul laturii (BC) iar $N \in (AM)$.

Dacă $BN \cap AC = \{P\}$ și $CN \cap AB = \{Q\}$ se cere:

a) Să se arate că BCPQ este trapez;

b) Dacă $PQ \cap AM = \{R\}$ și $\frac{PQ}{BC} = K$, să se calculeze valoarea

raportului $\frac{AN}{MR}$.

Prof. Rotaru Marcel, prof. Mardare Lazăr, prof. Opaț Maximilian

Olimpiada de matematică clasa a -VIII – a etapa locală 13 –02-2005

I Să se arate că:

$$\frac{\sqrt{27+10\sqrt{2}} - 2\sqrt{3+2\sqrt{2}} + \sqrt{6+4\sqrt{2}}}{3\sqrt{7-4\sqrt{3}} - \sqrt{28-16\sqrt{3}} + \sqrt{4-2\sqrt{3}}} \in \mathbb{N}$$

prof. Ailioaie Victor

II Dacă $a, b, c \in \left(\frac{1}{2}, \infty\right)$ să se arate că:

$$ab + ac + bc > a + b + c - \frac{3}{4}$$

prof. Dumitru Aurel

III. Pe planul rombului ABCD, având latura de lungime a cm și $m\angle(B) = 60^\circ$ se ridică perpendiculara VA de lungime a cm. Fie E mijlocul segmentului (AB) și F mijlocul segmentului (AD) .

a) Să se găsească un punct $M \in (CV)$ egal depărtat de punctele V, C, A, E, F.

b) Calculați sinusul unghiului format de planele (VEF) și (MEF) .

Prof. Dumitru Aurel

IV Fie paralelipipedul dreptunghic ABCDA'B'C'D' având dimensiunile $AB=a$, $BC=b$, $AA'=c$.

a) Demonstrați că: $\frac{1}{a} + \frac{1}{b} + \frac{1}{c} \geq \frac{1}{\sqrt{bc}} + \frac{1}{\sqrt{ac}} + \frac{1}{\sqrt{ab}}$.

b) Dacă a, b, c verifică inegalitatea: $\frac{1}{a} + \frac{1}{b} + \frac{1}{c} \leq \frac{1}{\sqrt{bc}} + \frac{1}{\sqrt{ac}} + \frac{1}{\sqrt{ab}}$

calculați:

i) $\cos \angle(BD', (ACC'A'))$

ii) Dacă $A'C' \cap B'D' = \{O'\}$ determinați aria secțiunii în paralelipiped prin planul $(A'O'B)$.

iii) Distanța dintre dreptele $(A'C', AD')$.

Prof. Baltag Adeluța

REZOVĂRI CLASA A VII-A

I a) Ultima cifră a unui pătrat perfect poate fi: 0, 1, 4, 5, 6, 9.

Ultima cifră a numărului $5n+7$: 2, 7.

Finalizare

b)

$$x = \frac{1 - \sqrt{2} + \sqrt{3}(1 - \sqrt{2}) - \sqrt{5}(1 - \sqrt{2})}{1 + \sqrt{3} - \sqrt{5}} = \frac{(1 - \sqrt{2})(1 + \sqrt{3} - \sqrt{5})}{1 + \sqrt{3} - \sqrt{5}} = 1 - \sqrt{2}$$

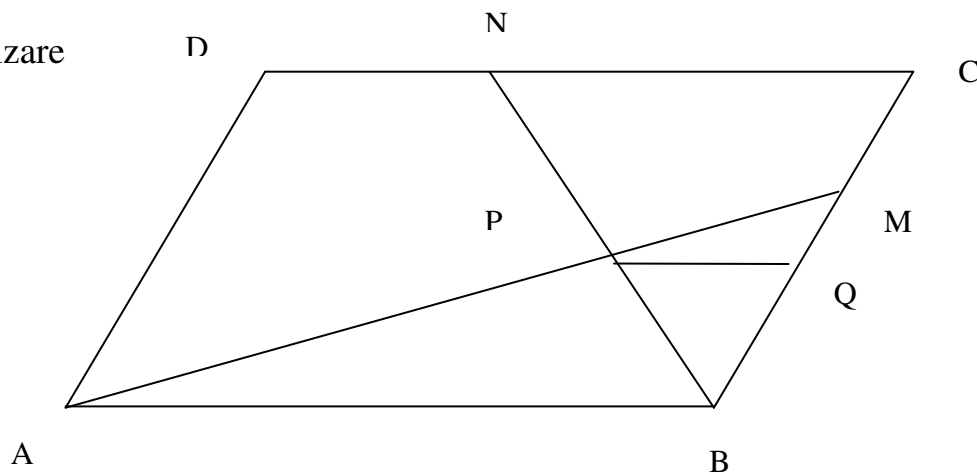
Finalizare

II a) Evident

$$b) 1 + \frac{1}{2^2} + \frac{1}{3^2} + \dots + \frac{1}{2005^2} > 1 + \frac{1}{2 \cdot 3} + \frac{1}{3 \cdot 4} + \dots + \frac{1}{2005 \cdot 2006}$$

$$1 + \frac{1}{2^2} + \frac{1}{3^2} + \dots + \frac{1}{2005^2} > 1 + \frac{1}{2} - \frac{1}{3} + \frac{1}{3} - \frac{1}{4} + \dots + \frac{1}{2005} - \frac{1}{2006}$$

Finalizare



III

Figura

Fie $PQ \parallel AB$ $\triangle MPQ \sim \triangle MAB \Rightarrow T.F.A. \frac{MP}{MA} = \frac{MQ}{MB} = \frac{PQ}{AB} = \frac{1}{5}$

$$\frac{MQ}{MB} = \frac{1}{5} \Rightarrow \frac{MQ}{BC} = \frac{1}{10}$$

$$\frac{BQ}{BC} = \frac{4}{10} = \frac{2}{5} = \frac{BP}{BN} \Rightarrow \text{Reciproca teoremei lui Thales } PQ \parallel CD,$$

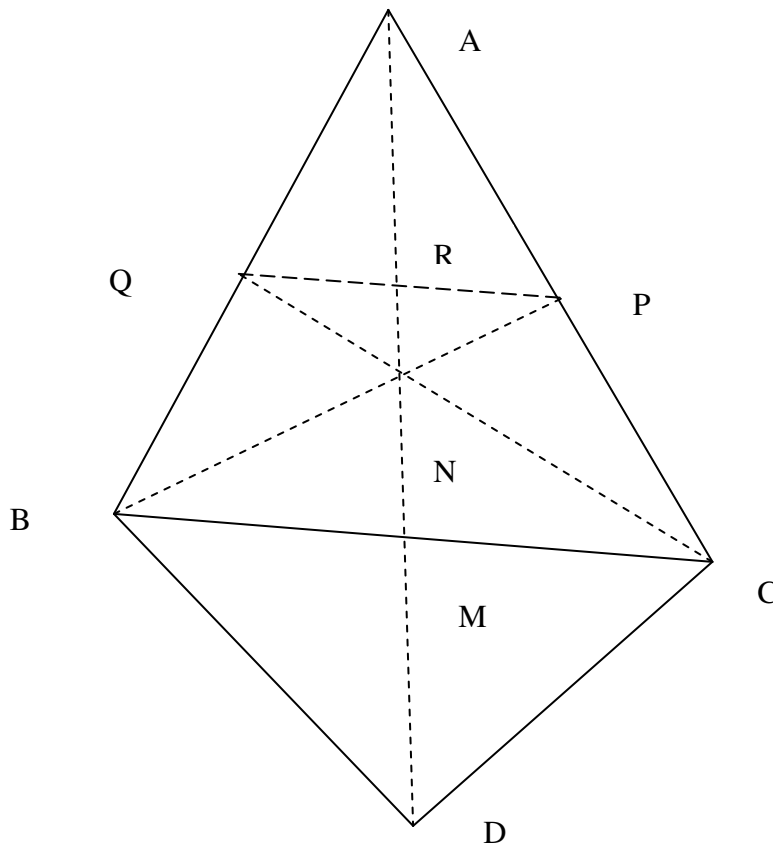
$$\Rightarrow AB \parallel DC$$

$$\triangle BPQ \sim \triangle BNC \Rightarrow T.F.A. \frac{BQ}{BC} = \frac{BP}{BN} = \frac{PQ}{NC} = \frac{2}{5} \Rightarrow$$

$$\frac{PQ}{CD} = \frac{PQ}{AB} = \frac{1}{5} \Rightarrow AB = CD$$

Finalizare

III a)



Figura

Prelungim (MN) cu $[MD] \equiv [MN] \Rightarrow BDCN$ paralelogram

$$\triangle ANP \sim \triangle ADC \Rightarrow \frac{AP}{AC} = \frac{NA}{DA}$$

$$\triangle AQN \sim \triangle ABD \Rightarrow \frac{AQ}{AB} = \frac{NA}{DA}$$

Din cele două relații $\Rightarrow \frac{AP}{AC} = \frac{AQ}{AB}$ conform reciprocei teoremei lui Thales

$QP \parallel BC \Rightarrow BCPQ$ trapez

$$\text{b) } \triangle PRN \sim \triangle BMN \Rightarrow \frac{RN}{MN} = \frac{RP}{BM} = \frac{PQ}{BC} = k$$

$$\frac{RN}{RN + MN} = \frac{k}{k+1} \Rightarrow \frac{RN}{RM} = \frac{k}{k+1}$$

$$\frac{AR}{AM} = k \Rightarrow \frac{AR}{AM - AR} = \frac{k}{1-k}, \quad \frac{AR}{RM} = \frac{k}{1-k}$$

$$\frac{RN}{RM} + \frac{AR}{RM} = k \left(\frac{1}{k+1} + \frac{1}{1-k} \right)$$

$$\frac{AN}{RM} = \frac{2k}{1-k^2}$$

BAREM CLASA A VIII-A

$$\text{I } \sqrt{27 + 10\sqrt{2}} = \sqrt{5^2 + 2\sqrt{2} \cdot 5 + (\sqrt{2})^2} = 5 + \sqrt{2} \quad \text{1p}$$

$$\sqrt{3 + 2\sqrt{2}} = 1 + \sqrt{2} \quad \text{1p}$$

$$\sqrt{6 + 4\sqrt{2}} = 2 + \sqrt{2} \quad \text{1p}$$

$$\sqrt{28 - 16\sqrt{3}} = 4 - 2\sqrt{3} \quad \text{1p}$$

$$\sqrt{7 - 4\sqrt{3}} = 2 - \sqrt{3} \quad \text{1p}$$

$$\sqrt{4-2\sqrt{3}} = \sqrt{3}-1$$

1p

Finalizare

1p

II

$$a) \left\langle \frac{1}{2}, a - \frac{1}{2} \right\rangle > 0$$

1p

$$b) \left\langle \frac{1}{2}, b - \frac{1}{2} \right\rangle > 0$$

1p

$$c) \left\langle \frac{1}{2}, c - \frac{1}{2} \right\rangle > 0$$

1p

$$\left(a - \frac{1}{2} \right) \left(b - \frac{1}{2} \right) + \left(a - \frac{1}{2} \right) \left(c - \frac{1}{2} \right) + \left(b - \frac{1}{2} \right) \left(c - \frac{1}{2} \right) > 0$$

2p

$$ab + ac + bc > a + b + c + \frac{3}{4}$$

2p

III a)

Figura

1p

Fie M mijlocul segmentului $[CV]$.

$$[MV] \equiv [MC] \equiv [MA] \quad \Delta VAC, m\angle(A) = 90^0$$

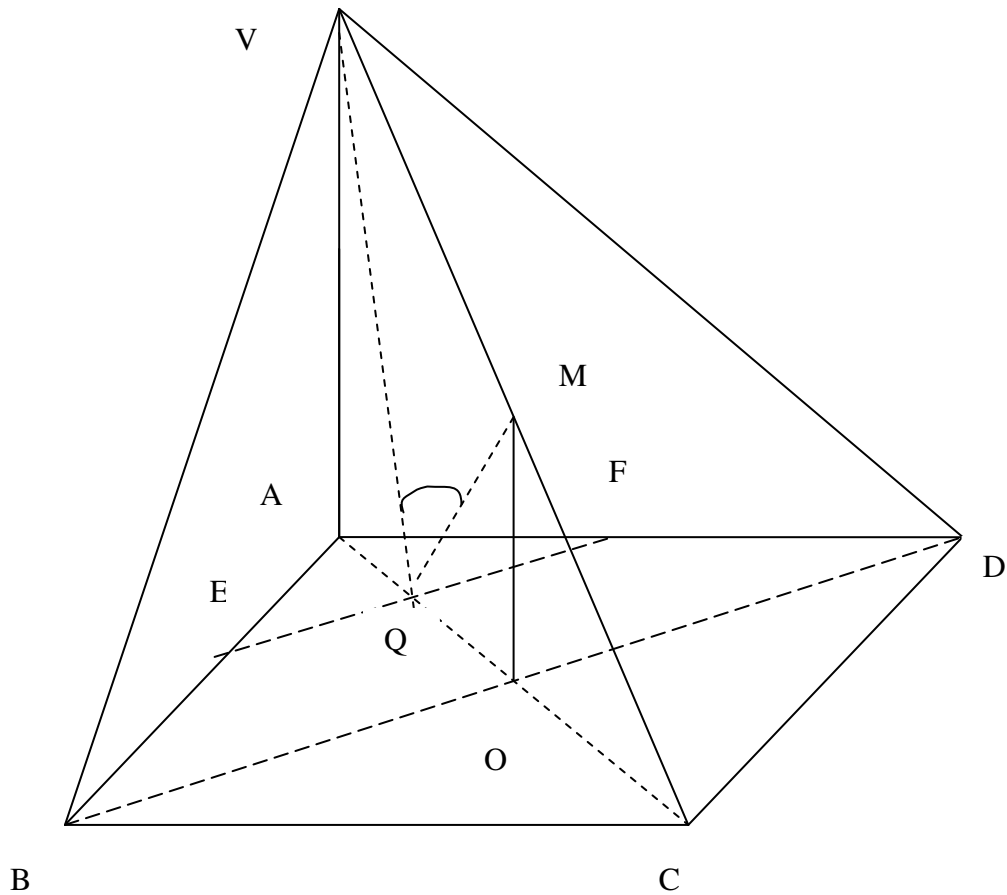
1p

$$\text{în } \Delta MOE, m\angle(MOE) = 90^0 \quad ME = \frac{a\sqrt{2}}{2} = \frac{CV}{2}$$

1p

Analog pentru segmentul $[MF]$. Finalizare

1p



b) Segmentele (VQ) și (MQ) sunt perpendiculare pe segmentul (EF) conform teoremei celor trei perpendiculare. 1p

$$m\angle((VEF), (MEF)) = m\angle(VQM) \quad 1p$$

$$A_{\Delta VQM} = A_{\Delta VAC} - A_{\Delta VAQ} - A_{\Delta MQC}$$

$$A_{\Delta VQM} = \frac{VQ \cdot MQ \cdot \sin(\angle VQM)}{2}$$

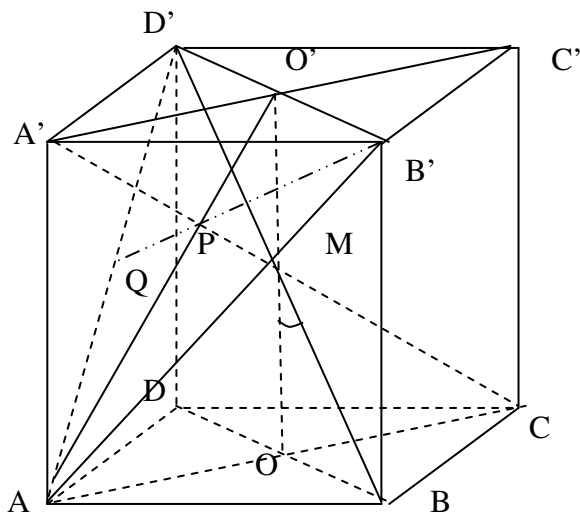
Finalizare

1p

IV Se aplică inegalitatea mediilor :

$$\frac{1}{a} + \frac{1}{b} \geq \frac{2}{\sqrt{ab}}; \quad \frac{1}{c} + \frac{1}{b} \geq \frac{2}{\sqrt{bc}}; \quad \frac{1}{c} + \frac{1}{a} \geq \frac{2}{\sqrt{ca}} \text{ prin sumare se obține :}$$

$$\frac{1}{a} + \frac{1}{b} + \frac{1}{c} \geq \frac{1}{\sqrt{ab}} + \frac{1}{\sqrt{ac}} + \frac{1}{\sqrt{bc}}, \text{ egalitate pentru } a=b=c. \quad 2p$$



Figura

1p

b) conform punctului a, inegalitatea devine egalitate și paralelepipedul devine cub de muchiea a.

i)

$$\Pr_{(ACC')} BD' = OO' \Rightarrow m\angle(BD', (ACC'A')) = m\angle(OO', BD') = m\angle(BMO)$$

Finalizare

1p

ii) $(A'OB') \cap ABCDA'B'C'D' = \triangle A'BC'$ echilateral

$$A_{\triangle A'BC'} = \frac{a^2 \sqrt{3}}{4}$$

1p

iii) Punctele A' și C sunt egal depărtate de vârfurile $\triangle AD'B'$ echilateral, se proiectează pe planul $AD'B'$ în centrul P al triunghiului.

$$B'P \cap AD' = \{Q\}$$

$$PQ \perp AD'$$

$$A'C \perp PQ \Rightarrow$$

$$PQ \text{ distanța dintre cele două drepte } PQ = \frac{1}{3} B'Q \quad PQ = \frac{a\sqrt{6}}{6} \quad 2p$$